

113年國中教育會考

社會科試題本

請不要翻到次頁！

讀完本頁的說明，聽從監試委員的指示才開始作答！

※ 請先確認你的答案卡、准考證與座位號碼是否一致無誤。

請閱讀以下測驗作答說明：

測驗說明：

這是國中教育會考社會科試題本，試題本採雙面印刷，共 14 頁，有 54 題選擇題，每題都只有一個正確或最佳的答案。測驗時間從 **08:30** 到 **09:40**，共 **70** 分鐘。作答開始與結束請聽從監試委員的指示。

注意事項：

1. 所有試題均為四選一的選擇題，答錯不倒扣。
2. 試題中所附圖形，如有附上比例尺，以比例尺為依據作答；若無比例尺，則該圖僅作為參考，不代表實際大小。
3. 可利用試題本中空白部分計算，切勿在答案卡上計算。
4. 依試場規則規定，答案卡上不得書寫姓名座號，也不得作任何標記。故意汙損答案卡、損壞試題本，或在答案卡上顯示自己身分者，該科考試不予計列等級。

作答方式：

請依照題意從四個選項中選出一個正確或最佳的答案，並用 **2B** 鉛筆在答案卡上相應的位置畫記，請務必將選項塗黑、塗滿。如果需要修改答案，請使用橡皮擦擦拭乾淨，重新塗黑答案。例如答案為 **B**，則將 **Ⓑ** 選項塗黑、塗滿，即：**Ⓐ ● Ⓒ Ⓓ**

以下為錯誤的畫記方式，可能導致電腦無法正確判讀。如：

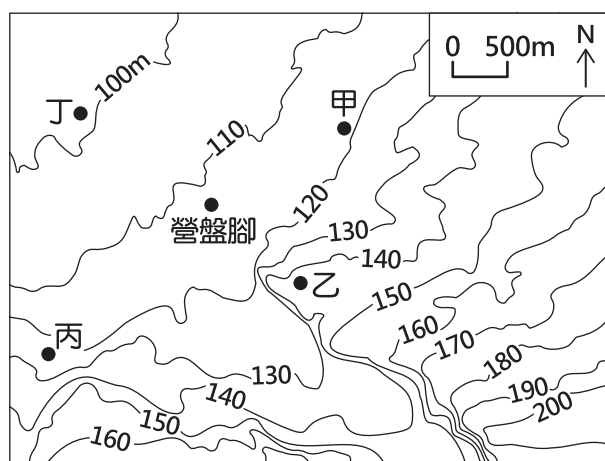
- Ⓐ Ⓑ Ⓒ Ⓓ — 未將選項塗滿
- Ⓐ Ⓑ Ⓒ Ⓓ — 未將選項塗黑
- Ⓐ ● Ⓒ Ⓓ — 未擦拭乾淨
- Ⓐ ● Ⓑ Ⓒ Ⓓ — 塗出選項外
- Ⓐ ● ● Ⓒ Ⓓ — 同時塗兩個選項

請聽到鐘聲響起，於試題本右上角方格內填寫准考證末兩碼，再翻頁作答

一、單題：(1~43題)

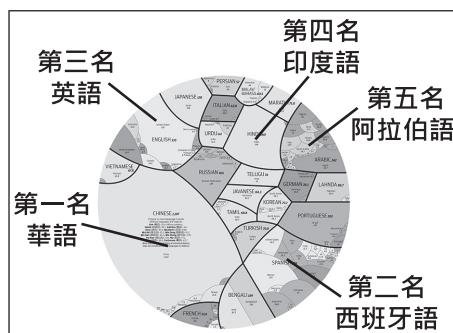
1. 「格外品」意指市場規格之外但品質無虞的農產品，例如規格不符或賣相不佳。格外品會被農民分享給親友或作為肥料跟飼料，盛產時還可能出現遭大量棄置的問題。下列何項作法較能有效解決上述問題？
- (A)推動從產地到餐桌的理念，降低食物里程
(B)善用食品加工，以利農產品的保存與食用
(C)鼓勵農民改採有機農法，提高農產品售價
(D)種植基因改造作物，增加單位面積的產量
2. 由波蘭、匈牙利、斯洛伐克、捷克組成的維謝格拉德集團，近年來約有20%至30%的商品出口至德國，因此當德國經濟成長減緩時，該集團國家的產業可能衰退。根據上文，集團成員國最可能採取下列何項政策，以減少產業衰退所帶來的負面影響？
- (A)加速產業創新轉型及尋找新的貿易夥伴
(B)採取促使各國貨幣升值的政策以利出口
(C)退出歐盟並從非洲國家引進廉價勞動力
(D)鼓勵國內勞力密集產業外移至西歐國家

3. 臺灣某些聚落是以相對位置來命名，例如北門。下列為某地區兩個地名由來的描述：在地勢較高處屯兵設營，故稱為上營盤，其西北山腳處則稱為營盤腳，又名下營盤。圖(一)為營盤腳附近的等高線地形圖，根據上述及圖中資訊判斷，上營盤最可能位在圖中何處？



圖(一)

4. 圖(二)為某網站繪製的世界語言使用圖，呈現全球23種使用人數超過5,000萬人的語言，其中使用人數排第五名的語言主要分布區為下列何者？
- (A)西亞、北非
(B)東亞、南亞
(C)南歐、南美洲
(D)北美洲、大洋洲



圖(二)

5. 彰化平原上曾有一個稱為「七十二庄」的組織，由漳州人和客家人聯合成立，他們透過共同的宗教活動，強化組織內部的連結，以抵抗鄰近泉州人的勢力。上述組織的成立，最可能與下列哪一現象有關？
- (A) 鄭氏推行軍屯制度
 (B) 清代民間械鬥頻傳
 (C) 清朝政府開山撫番
 (D) 日本鎮壓漢人抗日


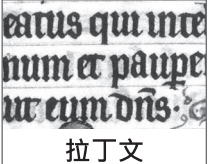
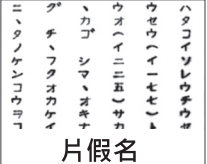

6. 圖(三)為一首歌曲部分歌詞的翻譯，其內容聚焦於中國歷史上某一事件。歌詞中「在東方的血腥戰爭」，最可能是指下列何者？
- (A) 蒙古大軍南下滅宋，成功入主中國
 (B) 英國為鴉片貿易問題出兵攻打中國
 (C) 八個國家組成聯軍向中國發動攻擊
 (D) 國民政府誓師北伐，終結軍閥割據

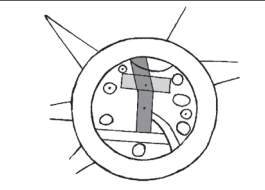
北京55日
 慈禧太后想要將「洋鬼子」趕出北京
 因此允許起事的民間組織
 圍攻外國領事館
 開啟一場在東方的血腥戰爭……

圖(三)

洋鬼子：鄙視外國人的稱呼。

7. 古代人們在繪製地圖時，通常會將自己所處的區域放在地圖中央。圖(四)是某地區出土的古世界地圖及其說明，該地區當時所使用的文字，最可能為下列何者？

(A)  象形文字	(B)  拉丁文	(C)  片假名	(D)  楔形文字
--	---	---	---



■ 巴比倫城 ○ 鄰近的城市
 ■ 幼發拉底河

此地圖約繪製於西元前六世紀，中央呈現幼發拉底河穿過巴比倫城的樣貌。

圖(四)

8. 「某國在十九世紀末設置一個機構，最初是顧及戰後返國的軍人，身上可能帶有病菌，因而先送往此處進行消毒及隔離，後來也在此處收容戰爭俘虜。在該國曾參與的甲午戰爭、第一次世界大戰、九一八事變，乃至於太平洋戰爭，此機構都曾發揮隔離檢疫的功能。」上述「某國」最可能是下列何者？
- (A) 美國 (B) 德國
 (C) 日本 (D) 法國
9. 以下是學者對歷史上臺灣的土地開發模式，所做出的分析：「十七世紀時，『甲』透過提供土地、耕牛、資金借貸，招募『乙』修築城堡、耕種稻米與甘蔗。甲、乙兩者之間雖然互相依賴，但甲常透過強制力懲罰不願受約束的乙。」上述「甲」與「乙」，最可能是下列何者？
- (A) 荷蘭聯合東印度公司與漢人
 (B) 清帝國與福建、廣東的漢人
 (C) 顏思齊集團與沿海的原住民
 (D) 鄭氏政權與大肚王國原住民

10. 圖(五)是老師在黑板上解釋某法律的部分內容，根據圖中內容判斷，下列何者是該法律最主要的立法目的？

- ◎ 父母、監護人應禁止他們吸菸、喝酒、嚼檳榔。
◎ 業者應拒絕他們進入不良場所，違者將處以罰鍰。

- (A) 避免家庭暴力事件的發生
(B) 處理兒童及少年犯罪事件
(C) 確保兒童及少年身心發展
(D) 維護社會秩序及善良風俗

圖(五)


11. 表(一)是小津整理的交易媒介比較表，表中甲、乙最可能為下列哪一組合？

表(一)

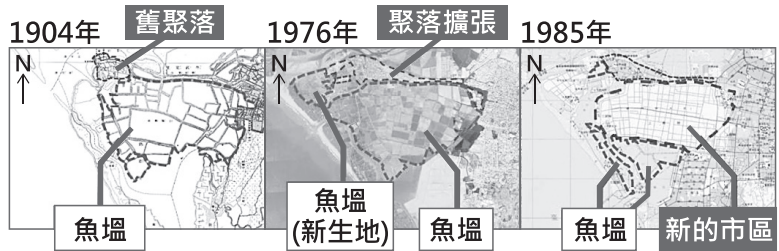
交易媒介	甲	乙
特色一	可直接支付各項消費	須事先存入足夠金額，並搭配特定設備才能使用
特色二	由國家發行並賦予價值	多由民間企業發行
特色三	可能會面臨兌換零錢的困擾	免去購物找零錢的困擾

- (A) 商品貨幣與儲值卡
(B) 商品貨幣與信用卡
(C) 法定貨幣與儲值卡
(D) 法定貨幣與信用卡
12. 新聞報導：大法官解釋第748號解釋文，宣告《民法》中未有保障同性婚姻之規定，違反《憲法》保障人民平等權與婚姻自由之意旨，相關機關應在兩年內完成法律修正或制定，若屆時未完成修法，同性二人可依現行《民法》規定辦理結婚登記。上述內容顯示出我國《憲法》的哪一項特性？
- (A) 規範範圍最廣
(B) 法律位階最高
(C) 修改程序困難
(D) 條文內容簡要
13. 小央花費數萬元購買限量模型，將商品帶回家後遭到父母反對，並立刻陪同小央返回店家要求退貨。根據我國法律規定，就小央的年齡而言，此項契約須經法定代理人同意才具備效力，因此店家只能辦理退貨。根據上述內容判斷，下列何者最可能是訂立該規定的用意？
- (A) 維護無行為能力人的權益
(B) 矯正未成年人的犯罪行為
(C) 保護限制行為能力人的權益
(D) 預防未成年人從事犯罪行為
14. 我國原本允許進口新鮮山竹，但2003年時，因新鮮山竹有引進害蟲的疑慮，所以政府禁止進口，於是市面上只能買到進口的冷凍山竹。2019年4月，政府公告將開放經殺蟲處理的新鮮山竹進口；同年9月，新鮮山竹上架銷售，雖然價格高於冷凍山竹，仍在短時間銷售一空，後來各店家也持續補貨販售。根據上述內容判斷，政府的開放政策帶來下列何項影響？

- (A) 貿易出超金額因而擴大
(B) 農業出口總額因而上升
(C) 購物意願因價格變化而提高
(D) 產品選擇因而變得更加多元

 山竹：一種水果。

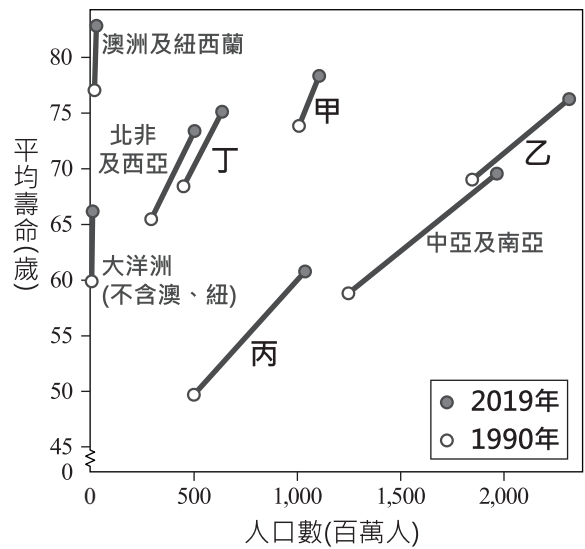
15. 圖(六)顯示臺灣某一沿海地區的土地利用變遷，根據圖中資訊判斷，下列關於該地區土地利用轉變的敘述何者正確？



圖(六)

- (A) 可利用的土地因海岸侵蝕嚴重而減少
 (B) 魚塭的面積變化呈現先減後增的趨勢
 (C) 新的市區用地主要是由魚塭填土而來
 (D) 聚落的範圍主要是由南向北逐漸擴張

16. 隨著醫療衛生的進步，人類的平均壽命正逐漸提高，圖(七)呈現1990年與2019年全球各區域平均壽命與人口數的變化，圖中未標示的區域有「中南美洲」、「歐洲及北美洲」、「東亞及東南亞」、「漠南非洲」。依據各區域的經濟發展及醫療衛生條件判斷，圖(七)中甲、乙、丙、丁何者最可能為漠南非洲？



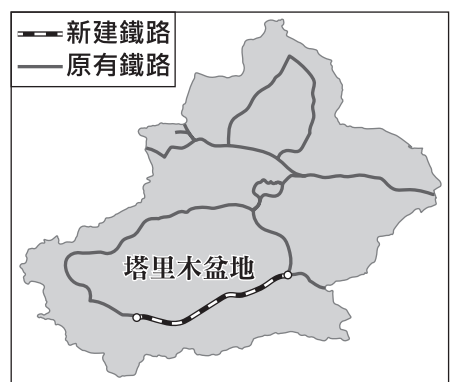
圖(七)

17. 日本某地因位處冬季季風迎風面，季風經日本海挾帶豐沛水氣形成大量降雪，待降雪季節結束，積雪剷除後的道路兩側留下垂直壁立高達十多公尺的雪壁，吸引大量遊客前來。上述雪壁景色最可能位於圖(八)中何地？



圖(八)

18. 中國某行政區有一新建鐵路於2022年6月通車，與原有鐵路部分路線共同構成一環形鐵路，其路線圖如圖(九)所示。該新建鐵路通車後為了維持其正常運行，根據沿線環境特色判斷，最可能需要進行下列何種維護措施？



圖(九)

- (A) 加強防颱工程，預防強風及豪雨損壞鐵路設備
 (B) 設置加熱系統，克服土壤結凍造成的軌道變形
 (C) 種植固沙植物，防止風沙危及列車行駛的安全
 (D) 興建河岸堤防，避免河流定期氾濫而淹沒鐵軌

19. 圖(十)是二十世紀時，甲、乙二國領袖來往的信函，根據內容判斷，甲、乙二國最可能是下列何者？

甲國領袖：

貴國針對我們提供武器給古巴，深表不滿。但你們不也部署大量飛彈，包圍我國及我們的盟國，對我們造成嚴重威脅嗎？

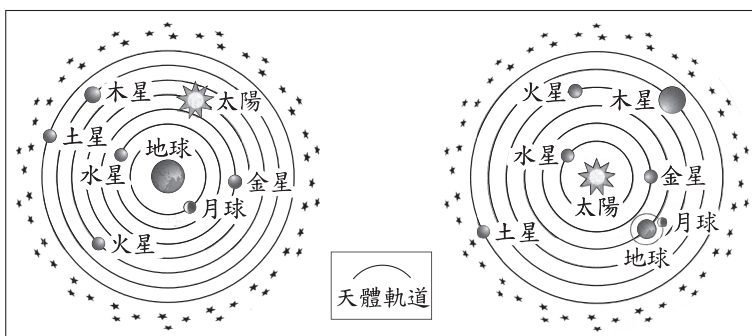
乙國領袖：

貴國應停止在古巴建立飛彈基地，並保證拆除這些基地。將古巴問題和歐洲或全世界安全問題連結，只會加劇古巴危機。

圖(十)

- (A) 甲：蘇聯、乙：東德
 (B) 甲：西德、乙：美國
 (C) 甲：美國、乙：蘇聯
 (D) 甲：蘇聯、乙：美國

20. 圖(十一)是兩張與天體運行有關的示意圖，下列何者及其說明最能夠代表中世紀(中古)歐洲天文學的主流觀點？



圖(十一)

- (A) 圖左，因為太陽繞行地球
 (B) 圖左，因為水星繞行太陽
 (C) 圖右，因為月球繞行地球
 (D) 圖右，因為木星繞行太陽

21. 「十四世紀時，由於此物產的生產與銷售，帶動一股商業活動：中國結合自身及波斯生產的原料，製作成具有特色的商品後，由中國銷往印度、埃及、波斯等地。十六世紀起，此物產又由西班牙船隻載運，從馬尼拉運往墨西哥城與利馬；在此同時，歐洲王公貴族對此物產風靡不已，紛紛下單訂作。」此物產最可能是下列何者？

利馬：位於今秘魯境內。

- (A) 番薯
 (B) 瓷器
 (C) 鴉片
 (D) 白銀

22. 表(二)呈現五個國家2010年某宗教信徒占該國總人口數的比例，根據內容判斷，此宗教的發源地最可能位於圖(十二)中甲、乙、丙、丁何處？

表(二)

國家	教徒占全國總人口比例(%)
柬埔寨	96.9
泰國	93.2
緬甸	80.1
不丹	74.7
斯里蘭卡	69.3



圖(十二)

- (A) 甲
 (B) 乙
 (C) 丙
 (D) 丁

23. 表(三)是2022年8月時，我國前四大外籍移工來源國的部分資料：

表(三)

類別		產業移工 (營建業、製造業、漁業)	社福移工 (看護、家庭幫傭)	總人數 比例
國 籍	越南	45.4%	12.7%	35.4%
	菲律賓	25.3%	12.2%	21.3%
	印尼	16.1%	74.9%	34.1%
	泰國	13.2%	0.2%	9.2%
性 別	男	71.4%	0.8%	49.8%
	女	28.6%	99.2%	50.2%

根據表中資料，我們可觀察到關於外籍移工的何種現象？

- (A)外籍移工的勞動權益因國籍而受到差別待遇
 (B)外籍移工從事的工作類別存在明顯性別差異
 (C)我國第二級產業主要外籍移工來源國為印尼
 (D)我國第三級產業主要外籍移工來源國為越南
24. 小華整理客廳時發現一疊紙張，如圖(十三)。他拍照上傳到社群網路詢問它的功能，以下是網友的回覆：



圖(十三)

甲：「我們稱它為高速公路回數票，以前沒有電子收費系統，經過收費站時將它拿給收費員當通行費。在收費站前減速繳交回數票常會造成塞車，現在用電子收費就沒這個問題了。」

乙：「以前忘了帶錢時，把回數票當現金，少數店家也能接受，我還曾經用它來買便當。」

關於上述高速公路回數票的說明及收費方式的變革，下列敘述何者最適當？

- (A)科技發展使得交通運輸更順暢
 (B)高速公路回數票可在銀行換外幣
 (C)高速公路回數票具延遲支付功能
 (D)科技發展讓交通工具的選擇更多元
25. 小惠在旅行的過程，曾借宿表(四)中四位親戚家，其中一位旁系血親參選當地的市民代表，因此在借宿的那天晚上，他也參與了掃街拜票。根據上述內容判斷，參選者最可能是表中何者？

表(四)

行程	借宿地點	親戚稱謂
第一天	新北市	姨丈
第二天	花蓮縣	舅舅
第三天	臺南市	姑姑
第四天	彰化縣	伯母

- (A)姨丈
 (B)舅舅
 (C)姑姑
 (D)伯母

26. 圖(十四)為石門水庫集水區範圍圖，若要針對此水庫的相關問題作整治並進行評估，則下列何者最為合理？

- (A)加強玉山山脈的水土保持可增加水庫使用年限
 (B)福山站附近的崩塌是造成水庫濁度增加的原因
 (C)復興區的土地利用方式將對水庫水質造成影響
 (D)疏濬石門(3)站旁河道的淤沙可維持水庫蓄水量

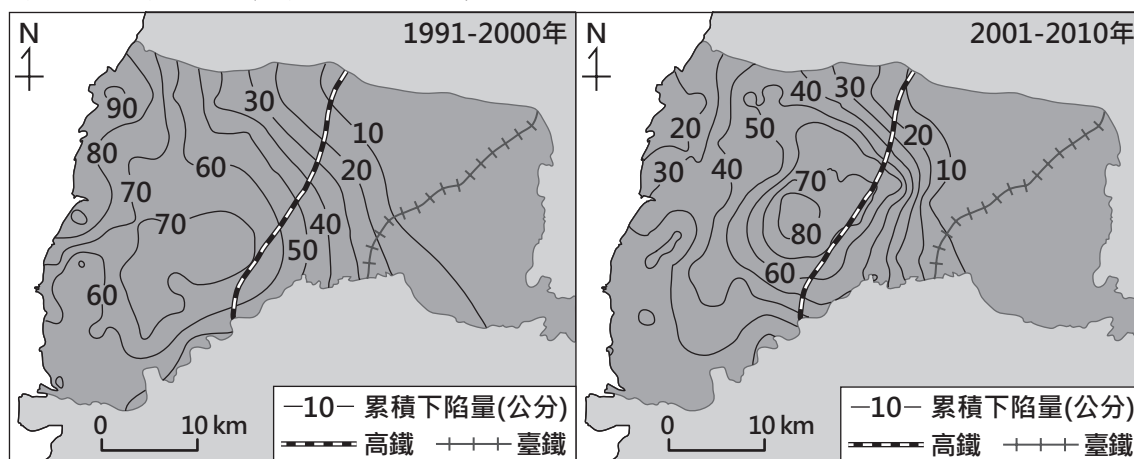


圖(十四)

27. 臺灣製鞋業在國內及海外約有3,000多家工廠，為了拓展製鞋版圖，國內幾家製鞋大廠持續計畫在其他國家籌設新廠。根據製鞋業的產業特色判斷，最可能前往具備下列何種條件的國家設置新廠？

- (A)人口眾多且所得較低
 (B)原料豐富且地廣人稀
 (C)動力充足且市場廣大
 (D)資金豐沛且技術密集

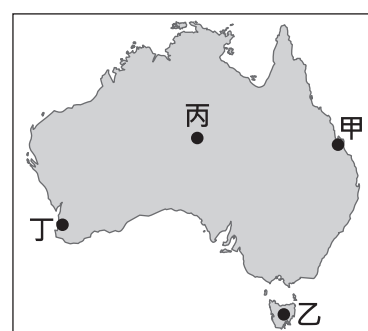
28. 圖(十五)呈現雲林縣某一環境災害在前、後兩個時期分布的變化，可以觀察出此災害最嚴重的地區在後期有向某地區轉移的現象，下列何項措施較有助於緩解此災害在後期最嚴重的地區持續惡化？



圖(十五)

- (A)提高自來水水費以減少用水
 (B)鼓勵在高鐵沿線改種省水作物
 (C)補助受影響居民墊高房舍與路基
 (D)限制臺鐵通過此路段的運量與班次

29. 荔枝為臺灣受歡迎的水果之一，目前主要種植在中南部。政府為了推廣臺灣荔枝，與澳洲合作，推動南半球生產計畫，在澳洲尋找與臺灣荔枝種植的氣候條件相似的地點，並於完成隔離檢疫後開始試種。根據上文，圖(十六)中何處最有可能為試種的地點？



圖(十六)

- (A)甲
 (B)乙
 (C)丙
 (D)丁

30. 清末某位知識分子提出下述主張：「本世紀女權的問題，關鍵在於政治參與。我認為女子能成為議員，也期望中國在海陸軍、財政部門、外交部門有女性任職，更希望女子能被選舉為總統。我們必須以塑造尊重男女平權的新國民為起點，並追求組織新政權為終極目標。」根據上文，此人認為應採取下列何種作法，最可能創造理想中的女性政治參與環境？

- (A) 接受西域的胡人文化
- (B) 維護傳統的皇帝制度
- (C) 推翻清朝政府建立共和
- (D) 效法日本推動君主立憲



無套褲漢用武器強迫歐洲各國王室接受「自由」的理念，並搶奪各地的錢財、打擊羅馬教會的權威。

圖(十七)

31. 圖(十七)是一張十八世紀末的漫畫及其說明，作者所要傳遞的訊息，最可能是下列何者？

- (A) 對北美十三州宣布獨立表示反對
- (B) 對德意志帝國擴建海軍備感威脅
- (C) 對義大利統一建國運動提出異議
- (D) 對法國大革命向外蔓延感到不安

無套褲漢：指中下階級平民。

32. 「東漢末年戰亂頻仍，知識分子四散遷徙，人才難覓。曹丕在正式建立曹魏政權前，為了改善人才選用方式，於延康元年(220年)實施此方法，在各郡設置中正官，……。」上文中未完的內容，最適合放入下列何者？

- (A) 挑選各地賢能者，根據才學德行與資歷表現分為九等
- (B) 與耶穌會傳教士進行交流，引進西方科學知識與技術
- (C) 長期戰亂導致地方制度轉變，郡縣制度取代封建制度
- (D) 主辦地方層級的科舉考試，使平民任官機會逐漸增加


33. 目前的跨洋資訊傳輸多是透過海底電纜，表(五)為四條海底電纜東、西端點的位置資訊。「太平洋光纖電纜網路」為一條橫跨太平洋的海底電纜，該電纜的興建可以提供兩個端點之間龐大的網路流量需求，其中一端還能進一步連接東南亞市場，此條電纜最可能是表中何者？

表(五)

電纜	西側端點所在位置	東側端點所在位置
甲	33.73°S, 18.44°E	5.42°N, 100.33°E
乙	40.76°N, 72.94°W	50.83°N, 4.55°W
丙	38.73°N, 9.15°W	31.26°N, 32.31°E
丁	24.86°N, 121.83°E	33.91°N, 118.42°W

- (A) 甲
- (B) 乙
- (C) 丙
- (D) 丁

34. 圖(十八)是小安過去的網路貼文，圖(十九)是當時動物之家認養規定的部分內容：

 **小安**
前年，我投完票後的星期三，是我養貓生活的起點。為了符合認養規定，我拜託爸爸跟我去動物之家辦理手續，認養一隻貓回家。這次，又是投完票後的星期三，認養規定沒變，但我已經能自己辦理手續，我打算去動物之家認養第二隻貓。

圖(十八)

認養規定

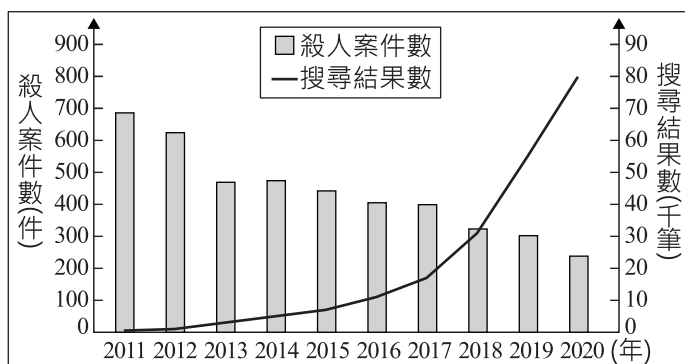
一、申請人：年滿20歲且無棄養紀錄之民眾，並攜帶身分證明文件親自到現場辦理手續。未滿20歲者，以其法定代理人或法定監護人為申請人，並由申請人攜帶身分證明文件親自到現場辦理手續。

圖(十九)

根據圖(十八)、圖(十九)的內容判斷，小安參與的這兩次投票，先後順序最可能為下列何者？


- (A)地方選舉、中央選舉 (B)地方選舉、公民投票
(C)中央選舉、公民投票 (D)公民投票、中央選舉

35. 近年甲國新聞中常見關於殺人案件的報導，許多人因而認為治安不斷惡化，要求主管機關首長下臺負責。曉晴想探究該國社會治安情況，在網路上搜尋到的資料如圖(二十)，圖中顯示甲國近年殺人案件數，以及用「殺人」為關鍵詞搜尋國內網路新聞的搜尋結果數。根據上述內容判斷，下列何者最可能是他探究的結論？



圖(二十)

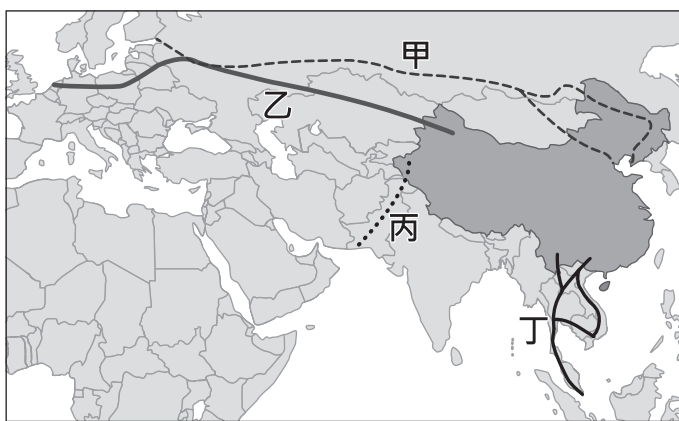
- (A)社會治安不斷惡化顯示媒體未善盡監督政府責任
(B)媒體與社群網路的報導內容會影響公共意見方向
(C)公共意見雖經過反覆討論但形成後仍具有變動性
(D)閱聽大眾喜好常會影響新聞媒體產業的企業收入

 變動性 = 不穩定性

36. 我國少子化與高齡化的情況日益嚴重，未來恐面臨勞動力不足的危機。政府除了促進人口成長以減緩影響程度外，根據人力運用調查資料顯示，2018年時約有150萬的壯年人口，因須承擔無酬勞動而未就業，有學者建議可設法提高這些人參與市場勞動的意願。根據上述內容判斷，下列何者最可能是該學者的建議之一？


- (A)延後高齡勞工的退休年齡
(B)廣設優質平價的托育機構
(C)增加中小企業的就業機會
(D)健全國際志工的培訓制度

37. 中國實施「一帶一路」政策規畫了許多經濟走廊，圖(二十一)為部分經濟走廊示意圖。其中有一條的規畫目的，除可降低從波斯灣運石油至中國須經印尼、馬來西亞間海峽及南海的風險外，也兼具促進中國西部地區與西亞、南亞國家的能源和貿易往來，此經濟走廊最可能為圖中何者？




圖(二十一)

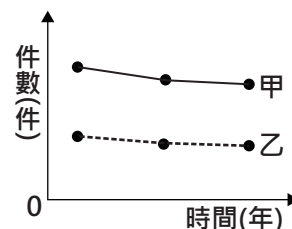
- (A)甲 (B)乙
(C)丙 (D)丁
38. 「自來水管在租界內埋設，沿街每十數步設置四尺高的吸水鐵桶，鐵桶下面與水管連接，使用時將鐵桶上的機關轉開，水就會激射而下。自來水管理單位有兩處，法國租界的管理處設在萬安里，英國租界的管理處就設在儲水的水塔旁邊。管線外需要用水的居民也可以請水夫外送，不論遠近，每擔水都收十文錢。」上述最可能是描寫下列何者的情形？
- (A)十八世紀初的北京 (B)十八世紀末的廣州
(C)十九世紀初的廈門 (D)十九世紀末的上海

 四尺：約 120 公分。

39. 藍蟹原產於美洲，因國際貿易蓬勃發展，透過船舶的壓艙水被帶往地中海，由於該地氣候適宜生長又缺乏天敵，藍蟹數量大幅增加，而使原生物種的生存空間受到擠壓。在法國地中海沿岸，藍蟹已成為常被捕捉到的漁獲，但這項食材在該國的食用者很少，使漁民生計受到衝擊；反觀北非 突尼西亞，在原本漁獲減少的情況下，漁民轉而捕捉藍蟹販售，結果獲得不錯的收入。上述關於二國漁民處境的內容，其所探討的主題最可能為下列何者？
- (A)漁民如何在市場競爭中受惠
(B)漁民如何應對外來文化的衝擊
(C)全球化現象如何影響漁民的生活
(D)資訊科技發展如何便利漁民的生活

 壓艙水：為維持船舶穩定而汲取至船艙的海水或河水。

40. 我國某地方法院在一段時間內的刑事案件判決件數，以及其中屬於非告訴乃論刑事案件判決的件數，如圖(二十二)。當地調解委員會在同一段時間內，也順利調解了許多刑事案件。若上述調解成立的案件，當初都沒能調解成功，且這些案件皆改由該地方法院作出判決，則關於圖中甲、乙線段的位置，下列何種變化最可能發生？



圖(二十二)

- (A)甲線段上移，乙線段上移 (B)甲線段上移，乙線段不變
(C)甲線段下移，乙線段上移 (D)甲線段下移，乙線段不變

41. 英國的英格蘭足球超級聯賽，在最接近11月11日的比賽日，會舉辦紀念活動：比賽前由軍人、球員與觀眾一起進行默哀儀式，各隊球衣上印有紅花圖案，其餘參與者也在衣服上別著紅花。這是因為英國及其殖民地為紀念第一次世界大戰犧牲將士，將11月11日訂為紀念日，許多殖民地在獨立後，仍保留此節日。根據上文，下列何者最可能保有同樣的紀念活動？
- (A)澳洲職業足球聯賽 (B)巴西足球甲級聯賽
(C)荷蘭足球甲級聯賽 (D)韓國職業足球聯賽
42. 1970年11月恆河出海口附近出現一座長3.5公里、寬3公里，最高點僅2公尺的沙洲島，因其位處印度與孟加拉領海交界處，引發兩國領土爭議，但在爭議還未解決之前，這座島嶼就消失了。根據當地自然環境判斷，該島嶼形成的原因最可能是下列何者？
- (A)位處板塊接觸帶，海底火山噴發 (B)恆河集水區的水土保持持續改善
(C)恆河河口附近的海平面持續上升 (D)豪雨侵襲，河流帶來大量堆積物
43. 表(六)為臺灣某時期四個主要港口，每十年的輸出額總和。根據表中資料，下列何者的推論最恰當？

表(六)

單位：十萬元

年分 港口	1896-1905年		1906-1915年		1916-1925年		1926-1935年	
	對外國	對日本	對外國	對日本	對外國	對日本	對外國	對日本
基隆港	90	312	506	1,215	2,112	5,578	2,321	9,260
淡水港	708	5	563	7	467	0.5	157	0.2
安平港	144	135	49	259	25	67	16	65
打狗港	25	176	45	2,375	831	8,912	479	13,440

- (A)打狗港的輸出額變化，可能受到殖民母國對糖業的資本挹注影響
(B)由於基隆離日本較近，其港口對殖民母國的輸出額占比較南部多
(C)表中各港口占臺灣對外輸出額比重，與十八世紀後期的情況相仿
(D)表中各港口輸出額的變動，應與當時的統治者推動十大建設有關

二、題組：(44~54題)

閱讀下列選文，回答第44至45題：

非洲部分地區，有宗教團體灌輸民眾邪靈可能會附身於孩童的觀念，而被附身的孩子通常被稱為「巫童」，會為家庭帶來災難、貧困和疾病，信徒對此深信不疑。

巫童的認定由當地宗教人士判斷，一旦被判定為巫童，不論年紀多小，都可能會遭遺棄而流落街頭，或由宗教人士向父母收取相當於當地一般家庭一年收入的高額費用，為孩子舉行驅魔儀式。在驅魔過程中，父母會被要求凌虐巫童，因為宗教人士認為巫童越痛苦、哭喊聲越大，就表示驅魔越成功。

近年巫童問題受到國際關注，有些志願團體投入宣導及教育相關工作，希望藉由知識的推廣改正迷信行為，進而達成保護孩童的目的。

44. 文中巫童悲劇的發生，主要反映出下列何種現象？
(A)文化的差異形成文化位階 (B)法律的強制力高於宗教信仰
(C)民眾行為會受到社會規範影響 (D)公共意見是經由反覆辯論而形成
45. 文中關於巫童所受待遇的描述，最能凸顯下列何者的重要性？
(A)基本人權應受到普遍性的保障 (B)公權力的行使應受到法律約束
(C)自由信仰宗教的權利應受法律保障 (D)政府的權力應相互制衡以避免濫權

閱讀下列選文，回答第 46 至 48 題：

過去《道路交通管理處罰條例》中的「電動自行車」，僅以電力驅動行駛，因與電動機車的使用差異不大，且不須懸掛車牌、不須駕照、駕駛者無年齡限制、價格較低廉，部分民眾喜愛以它作為代步工具，卻也衍生諸多問題。

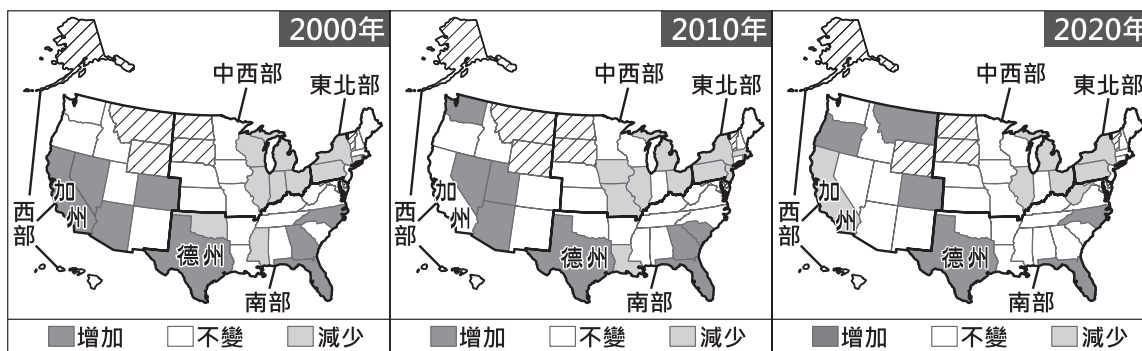
2022年4月時，政府修正《道路交通管理處罰條例》，將「電動自行車」更名為「微型電動二輪車」，加入應領用並懸掛車牌進行管理、投保強制汽車責任保險、年滿14歲才能駕駛等規定，違規者將遭主管機關開罰，並於5月4日由總統公布。此外，若在修正規定施行前就已持有微型電動二輪車的車主，須在施行後的二年內領用並懸掛車牌，逾期亦將受罰。

由於法規修正後，仍有諸多行政工作需要時間準備，因此政府宣布這些修正規定在2022年11月30日才正式施行。

46. 根據文中第一段內容判斷，相較於電動機車，部分民眾喜愛使用電動自行車的原因，最可能為下列何者？
(A)該產品的市場競爭程度日漸提升
(B)選擇使用該項產品的機會成本較低
(C)受匯率變化影響，產品販售價格調降
(D)負向誘因增加，民眾使用產品意願提高
47. 文中政府於2022年4月所做的變革，其過程須經下列哪一程序？
(A)公民投票複決
(B)憲法法庭審理
(C)行政機關移請覆議
(D)中央立法機關通過
48. 根據文中內容判斷，在修正規定施行前已持有微型電動二輪車者，關於其領用車牌的敘述，下列何者最適當？
(A)最晚要在2024年5月3日領用車牌，以免遭受行政處罰
(B)最晚要在2024年5月3日領用車牌，以免遭受刑事處罰
(C)最晚要在2024年11月29日領用車牌，以免遭受行政處罰
(D)最晚要在2024年11月29日領用車牌，以免遭受刑事處罰

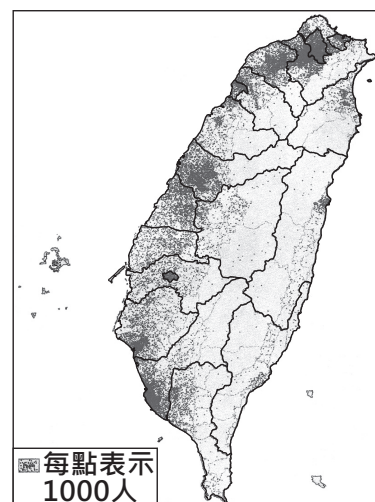
閱讀下列選文，回答第 49 至 51 題：

根據《美國憲法》，眾議院的435席議員席次是按照各州人口數分配，而每10年會依據人口普查結果重新分配席次，且每個州至少有1個席次。圖(二十三)為不同年分各州眾議員席次的變化情形，每位眾議員平均代表的美國公民也從646,952人變成761,169人。其中，僅有1席的州為圖中標示斜線的區域，而席次最多的州皆為加州，在2020年為52席。臺灣現行的區域立委席次分配也採類似美國的方式，例如73位區域立委中，臺北市應選出8人，雲林縣應選出2人。



圖(二十三)

49. 根據上文及觀察圖(二十三)中不同年分各州眾議員席次的變化情形，可以推論美國人口在這段期間有下列何項變動？
- (A)南部州人口成長速度較東北部的州快
 - (B)美國各州持續呈現人口負成長的狀態
 - (C)加州因國際移民眾多而人口成長加快
 - (D)禁止移民的政策主導德州人口的變化
50. 影響美國各州人口多寡的因素眾多且不相同，觀察圖(二十三)中2020年眾議院席次僅有1席的州，下列何者與這些州人口少的原因較無關聯？
- (A)地形崎嶇
 - (B)工業就業機會少
 - (C)位居高緯且氣候嚴寒
 - (D)深受殖民地式經濟影響
51. 根據上文並參考圖(二十四)臺灣人口分布狀況，下列關於各行政區立委席次分配的說明何者正確？
- (A)屏東縣區域立委席次少於臺東縣
 - (B)新北市區域立委席次多於宜蘭縣
 - (C)彰化縣區域立委席次為全臺最少
 - (D)臺南市區域立委席次為全臺最多



圖(二十四)

閱讀下列選文，回答第 52 至 54 題：

1950年代，臺灣電影為配合政府「反共抗俄」政策，政府所屬片廠拍攝的電影，幾乎都是配合官方意識形態的政治宣傳工具，而民間則出現以歌仔戲劇本與民俗故事為素材，並用閩南語發音的「臺語電影」。1960年代，因政府強調社會安定，臺灣電影開啟「健康寫實」風格，主張電影劇情應避免暴露社會的黑暗面，呈現人性的光輝，受到當時海內外華人市場的歡迎。在1970年代經濟成長之下，愛情、武俠、功夫、喜劇等電影類型，也進一步走入民眾的休閒娛樂之中。

1980年代初期，臺灣電影受到香港電影新浪潮的影響，進入「臺灣新電影」時期。「新電影」發展初期的導演與編劇，在劇本創作上融入鄉土文學的題材，拍攝風格以強調自然、寫實為主，在題材的選用上，開始有意識的挑戰官方政治禁忌，而受到相關單位的關切。例如「新電影」初期代表作《兒子的大玩偶》，在正式上映前，因電影片段中呈現臺北違建林立等有礙政府形象的畫面，遭官方施壓要求刪減，此事件後來被稱為「削蘋果事件」。最後借助影視記者楊士琪等人的聲援，才使得電影逃過被刪剪的命運。

52. 根據上文，「新電影」出現之前的戰後臺灣電影，最不可能播映下列何種劇情？
- (A)中國明朝年間，來自各路的武功高手在龍門客棧展開激烈戰鬥
 - (B)國軍將領對抗日軍時陣亡，蔣中正題字「英烈千秋」表示悼念
 - (C)男主角與豪門望族的女兒產生戀情，並捲入家族間的恩怨情仇
 - (D)主角因二二八事件遭到軍警處決，留下妻小長期受到政府監視
53. 根據上文，「新電影」發展之初，最可能以下列何者作為電影題材？
- (A)宣揚政府推行南進政策所帶來的經濟成就
 - (B)關注一般農民、勞工等小人物生活中的困頓
 - (C)受到美援影響，將美國流行文化作為劇情主軸
 - (D)重視原住民文化，發揚原住民族音樂與神話傳說
54. 上文「削蘋果事件」中，國家企圖限制的人民權利類型，與下列何者最相似？
- (A)對法庭上的被告宣告褫奪公權
 - (B)剝奪貪污罪犯應考公職的資格
 - (C)禁止過度血腥暴力影像的出版
 - (D)要求外國旅客入境應接受審查